



おや こがくりょく
まてっぽあっぽしーと
ステップアップシート

けいさん 1ねん だい3かい

1ねん

くみ ばん

しめい

☆ つぎの けいさんを しましょう。

(1) $9 + 2$

1 1

(2) $8 + 4$

1 2

(3) $6 + 7$

1 3

(4) $12 - 3$

9

(5) $11 - 6$

5

(6) $15 - 9$

6

(7) $30 + 20$

50

(8) $28 - 6$

22

☆ □に あてはまる かずを かきましょう。

(9) $8 + \boxed{3} = 11$

☆ しきと こたえを かきましょう。

(10) ^{あか}赤い花が ^{はな}12本 ^{ほん}あります。 ^{しろ}白い花は 赤い花より 5本 すくなくいです。
白い花は なん本 あるでしょうか。

しき

$12 - 5 (=7)$



こたえ

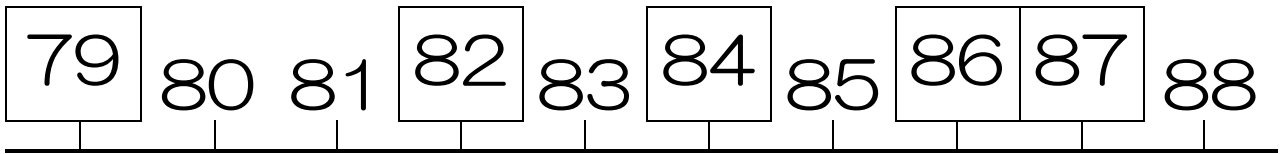
7

本

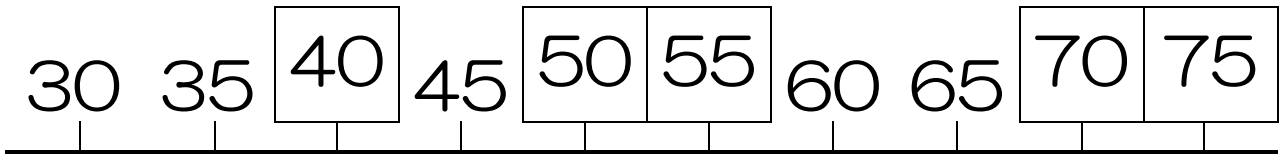
大きな かず

めもりが 1つふえると, きまった かずだけ ふえます。
□に あてはまる かずを かきましよう。

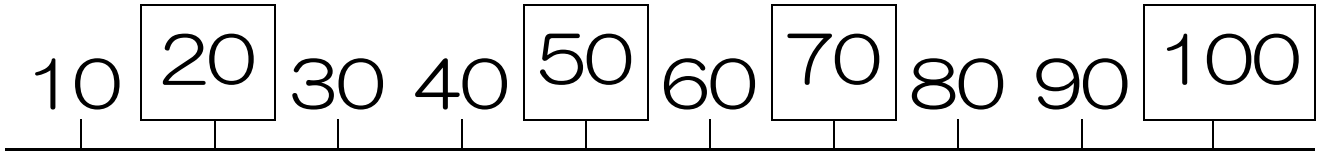
①



②



③



2つ ならんだ かずの
大きさの ちがいを
くらべて みよう!